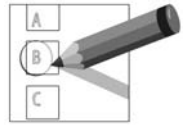


EXERCICE 4

3 points

Lisez la question et le document. Entourez la bonne réponse.



❶ Quelle image indique une date de naissance?

1.76.01.35.238.518.04	06.78.57.69.32	06.01.1960	7789 WK 13
A	B	C	D





❷ Quel pantalon coûte le moins cher ?

 <p>99,95 €</p>	 <p>49 €</p>	 <p>79 €</p>	 <p>39,99 €</p>
A	B	C	D

❸ Quelle image indique minuit et quart ?

00:15	23:40	11:45	12:04
A	B	C	D

❹ Maria mesure 1,70 m. Qui est plus petit que Maria ?

<p>Christine</p>  <p>1,68 m</p>	<p>Bruno</p>  <p>1,73 m</p>	<p>Jeannette</p>  <p>1,75 m</p>	<p>Patrick</p>  <p>1,80 m</p>
A	B	C	D